

Επαναληπτικό Ενότητας 7 Μαθηματικών
Πρόσθεση και αφαίρεση μέχρι το 10

1. Λύνω τις μαθηματικές προτάσεις.

$6+2=$ __	$6+3=$ __	$6-3=$ __	$8-3=$ __
$3+5=$ __	$5+2=$ __	$5-2=$ __	$7-3=$ __
$3+4=$ __	$3+3=$ __	$3-3=$ __	$9-5=$ __
$5+4=$ __	$2+7=$ __	$7-2=$ __	$8-6=$ __
$7+3=$ __	$4+6=$ __	$6-4=$ __	$6-1=$ __
$4+2=$ __	$5+5=$ __	$5-5=$ __	$4-4=$ __
$1+8=$ __	$0+9=$ __	$9-0=$ __	$9-1=$ __
$1+3=$ __	$5+5=$ __	$3-1=$ __	$10-0=$ __
$7+2=$ __	$1+7=$ __	$9-3=$ __	$7-5=$ __
$5+0=$ __	$0+4=$ __	$8-2=$ __	$6-6=$ __

3	5	6	5	2	4
+ 5	+ 2	+ 1	+ 4	+ 6	+ 2

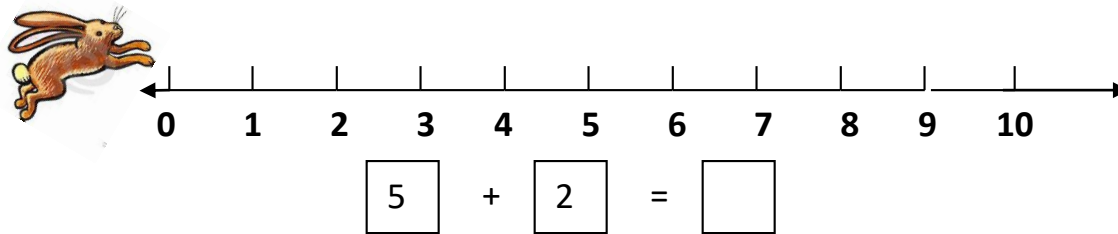
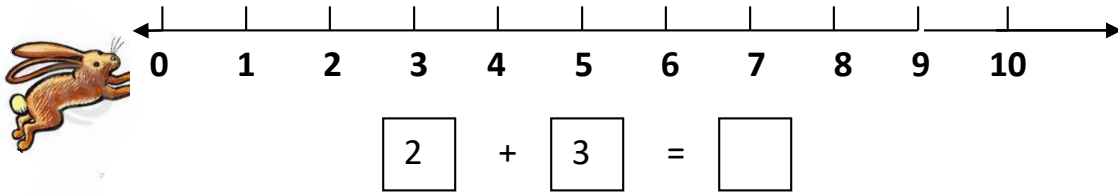
$3 + \square = 6$	$6 + \square = 9$	$3 + \square = 7$	$5 + \square = 10$
-------------------	-------------------	-------------------	--------------------

$6 + \square = 7$	$8 + \square = 8$	$4 + \square = 8$	$6 + \square = 8$
-------------------	-------------------	-------------------	-------------------

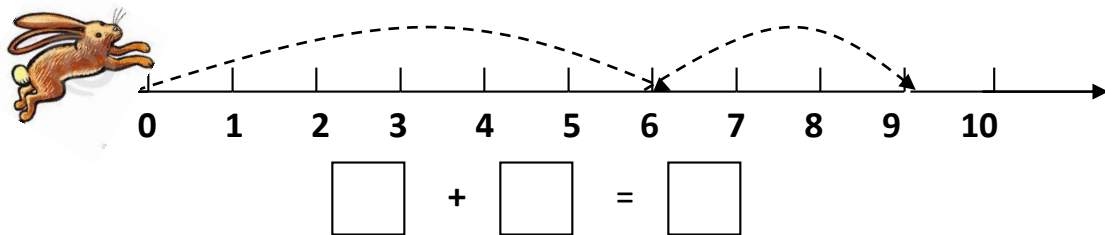
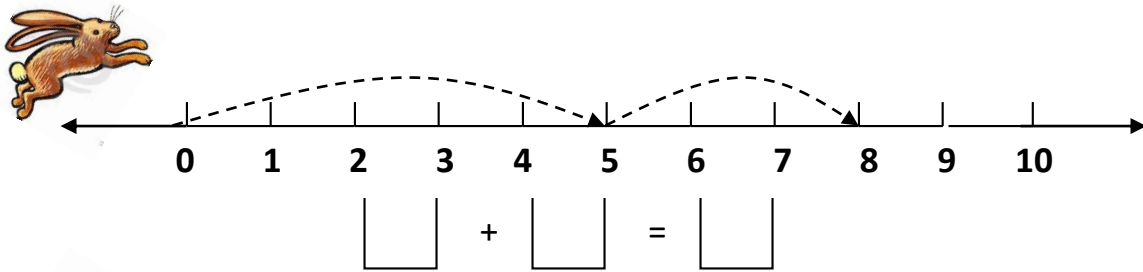
$8 - \square = 5$	$7 - \square = 3$	$3 - \square = 1$	$10 - \square = 8$
-------------------	-------------------	-------------------	--------------------

$\square - 4 = 3$	$\square - 2 = 3$	$\square - 3 = 3$	$\square - 7 = 3$
-------------------	-------------------	-------------------	-------------------

2. Σχεδιάζω τα πηδύματα του γαγού για να δείξω τη μαθηματική πρόταση.



3. Βγέπω τα πηδύματα του γαγού και γράφω τη μαθηματική πρόταση.



4. Με τους 3 αριθμούς μέσα στα συννεφάκια φτιάχνω 4 μαθηματικές προτάσεις.



$$\boxed{} + \boxed{} = \boxed{}$$

$$\boxed{} + \boxed{} = \boxed{}$$

$$\boxed{} - \boxed{} = \boxed{}$$

$$\boxed{} - \boxed{} = \boxed{}$$



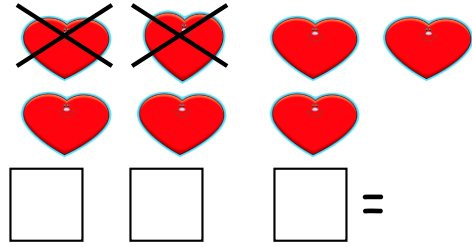
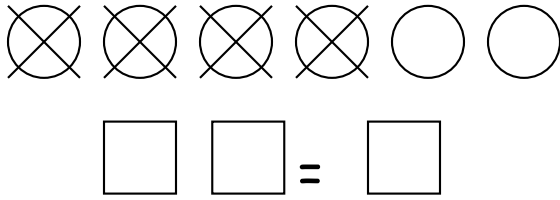
$$\boxed{} + \boxed{} = \boxed{}$$

$$\boxed{} + \boxed{} = \boxed{}$$


$$\boxed{} - \boxed{} = \boxed{}$$

$$\boxed{} - \boxed{} = \boxed{}$$

5. Γράφω μια μαθηματική πρόταση για τις εικόνες.



6. Κάνω ένα σχέδιο για την Μ. Π. $9-5=4$



7. Λύνω τα προβλήματα.

- Αγόρασα ένα μοσχάρι €2 και ένα βιβλίο €6. Πόσα πήρωσα;
Μ.Π. _____
Απάντηση: Πήρωσα _____ ευρώ.
- Ο Πάρης έχει 5 καραμέλες. Η Άννα έχει 2 καραμέλες λιγότερες. Πόσες καραμέλες έχει η Άννα;
Μ.Π. _____
Απάντηση: Η Άννα έχει _____ καραμέλες.
- Μέσα στη φρουτιέρα είχε 8 μήλα. Η μαμά μου έφαγε κάποια. Τώρα η φρουτιέρα έχει 3 μήλα. Πόσα μήλα έφαγε η μαμά μου;
Μ.Π. _____
Απάντηση: Έφαγε _____ μήλα.
- Η Αναστασία είχε μερικές κούκλες. Έδωσε 3 κούκλες στη φίλη της τη Δανάη. Της έμειναν 4 κούκλες. Πόσες κούκλες είχε η Αναστασία;
Μ.Π. _____
Απάντηση: Είχε _____ κούκλες.